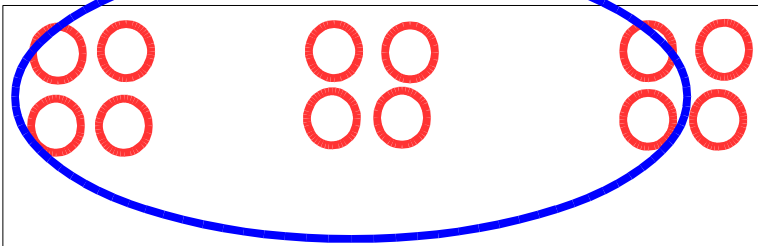


## PROBLEMES

Pour chaque problème, tu peux faire un dessin dans la case blanche.  
(Attention, pour dessiner plus vite, ne dessine pas vraiment l'objet, dessine des ronds ou des traits. Tu peux entourer les dizaines pour t'aider.)  
Essaie aussi d'écrire l'opération.

### Les photos de Gribouille

Dans chaque enveloppe,  
Zoé a mis 4 photos de  
Gribouille.  
Combien de photos  
va-t-elle envoyer en tout ?

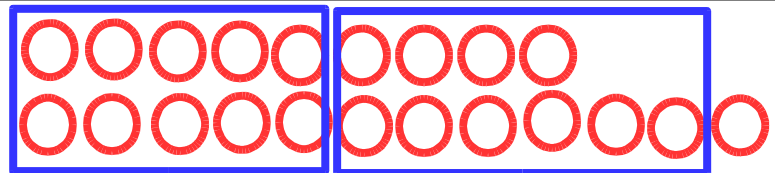


$$\text{Opération : } 4 + 4 + 4 = 12$$

Zoé va envoyer **12** photos.

### Les fleurs

Mamie a planté des fleurs  
dans le jardin.  
Il y a une rangée de 9 tulipes  
et une rangée de 12 roses.  
Combien de fleurs y a-t-il  
en tout ?

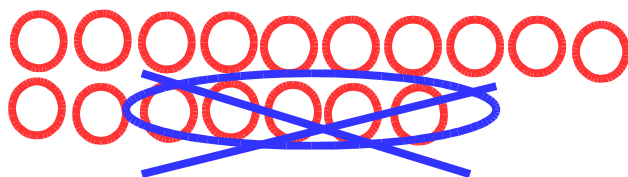



$$\text{Opération : } 9 + 12 = 21$$

Il y a **21** fleurs en tout.

### Les verres

Camille range les verres.  
Elle transporte une pile de  
17 verres. 5 verres tombent  
par terre et se cassent.  
Combien reste-t-il de verres ?



$$\text{Opération : } 17 - 5 = 12$$

Il reste **12** verres.